




Nom : \_\_\_\_\_ Date : \_\_\_\_\_

R

## 1 Comment nomme-t-on ces différents éléments géométriques ?

Entoure la bonne réponse.

- a.  [AB] (AB) AB
- b.  [AB] (AB) AB
- c.  A (A) [A]

## 2 Complète par le mot manquant.

..... est l'élément le plus simple de la géométrie.

..... est un ensemble infini de points. Elle est .....

Sur une droite (xy), deux points A et B déterminent un ..... de droite.

## 3 Trace une droite passant par deux points M et N.

### 4 a. Trace un segment [AB] de longueur 8 cm.

b. Trouve le milieu de ce segment et nomme-le I.

c. Complète.

AI = IB = ..... cm

### 5 a. Trace une droite (xy) et une droite (zt) qui se coupent en un point I.

b. Place un point A extérieur à (xy) et à (zt).

c. Trace la droite (AI).